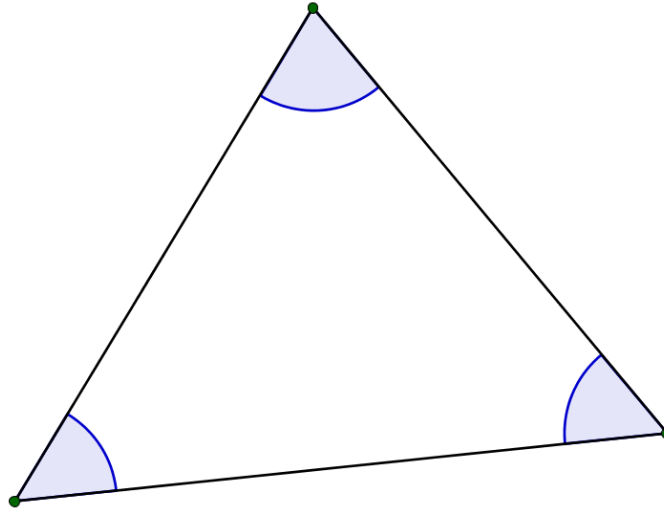


Laufzettel zum Lernpfad „Wiederholungen zum Dreieck“

Das Bild zeigt eine _____.

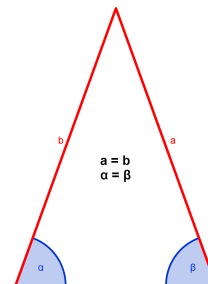
Übertrage die Bezeichnungen der Ecken, Seiten und Winkel in das Dreieck:



Schreibe hier die Definitionen auf:

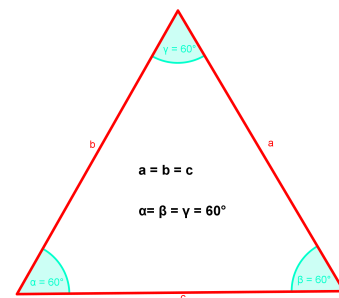
In einem **gleichschenkligen Dreieck** _____

_____.



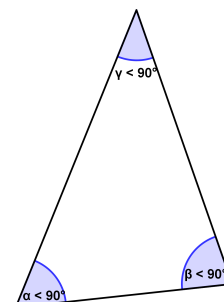
In einem **gleichseitigen Dreieck** _____

_____.

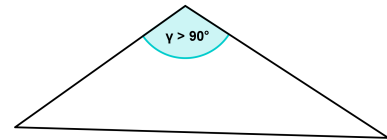


In einem **spitzwinkligen Dreieck** _____

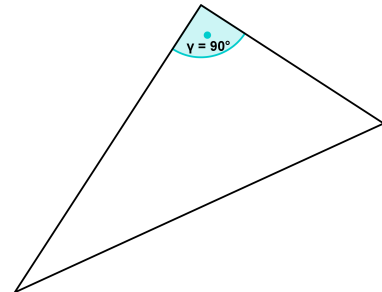
_____.



In einem **stumpfwinkligen Dreieck** _____



In einem **rechtwinkligen Dreieck** _____



Tabellen I:

a)

a	b	c
7 cm		
α	β	γ

b)

a	b	c
7 cm		
α	β	γ

c)

a	b	c
7 cm		
α	β	γ

d)

a	b	c
7 cm		
α	β	γ

Seiten-Winkel-Beziehung: _____

Tabellen II:

a)

a	b	c
$b + c$	$a + c$	$a + b$

b)

a	b	c
$b + c$	$a + c$	$a + b$

c)

a	b	c
$b + c$	$a + c$	$a + b$

d)

a	b	c
$b + c$	$a + c$	$a + b$

Dreiecksungleichung: _____
